


«Рассмотрено»

Председатель МО учителей естественнонаучного цикла

 Рузымуратова Н.С.

Протокол № 1 от « 31 » августа 2015г.

«Утверждаю»

Директор МОУ «СОШ № 6»

 А.Н. Пажитнев

« » 2015г.



**Демонстрационный вариант
контрольно-измерительных материалов
для проведения промежуточной аттестации
по экономике для 10 класса в 2016г.**

Инструкция по выполнению работы

Работа по экономике состоит из двух частей, содержащих 20 заданий. Часть 1 содержит 17 заданий, часть 2 содержит 3 задания.

На выполнение работы отводится 1,5 часа (90 минут).

Ответами к заданиям 1–17 являются цифра (число), буква или последовательность цифр, (чисел). Ответ запишите в поле ответа в тексте работы.

Задания 18–20 части 2 представляют собой текстовые задачи, требующие подробной записи решения и ответа. Эти задания выполняются на отдельном листе.

При выполнении заданий можно пользоваться черновиком. Записи в черновике не учитываются при оценивании работы.

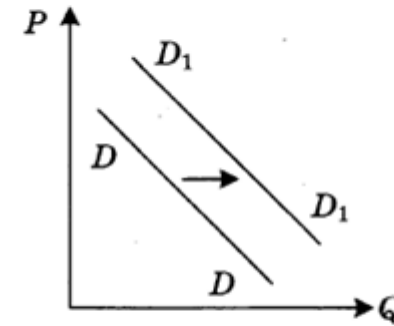
Баллы, полученные Вами за выполненные задания, суммируются. Постарайтесь выполнить как можно больше заданий и набрать наибольшее количество баллов.

Часть 1

При выполнении заданий этой части в бланке ответов № 1 под номером выполняемого вами задания поставьте знак «X» в клеточке, номер которой соответствует номеру выбранного вами ответа.

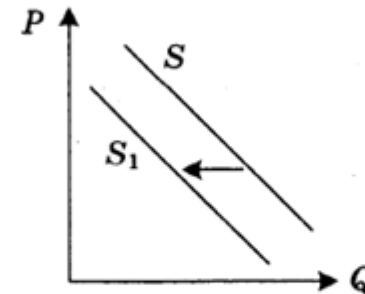
- 1 В стране Z производство товаров координируется правительством: предприятия получают директивные указания, что и в каком количестве производить. Данный признак характерен для экономики
- | | |
|-----------------|-----------------|
| 1) традиционной | 3) рыночной |
| 2) плановой | 4) конкурентной |
- 2 В стране Z существует товарное производство и денежное обращение, большинство занятых работает на промышленных предприятиях. Какая дополнительная информация позволит сделать вывод о том, что экономика страны Z имеет рыночный характер?
- 1) Несовершеннолетним работникам предоставлены льготные условия труда.
 - 2) Государство облагает налогами экспорт и импорт продукции.
 - 3) Производители самостоятельно определяют объёмы и ассортимент продукции.
 - 4) Государство осуществляет контроль над объёмом денежной массы.
- 3 Верны ли следующие суждения о факторах производства?
- А. Деньги и ценные бумаги относятся к такому фактору производства, как капитал.
- Б. Здания и сооружения относятся к такому фактору производства, как земля.
- | | |
|-------------------|-------------------------|
| 1) верно только А | 3) верны оба суждения |
| 2) верно только Б | 4) оба суждения неверны |
- 4 Трактор, приобретённый фермерским хозяйством для сельскохозяйственных работ, относится к такому фактору производства, как
- | | | | |
|----------|------------|---------|------------------------|
| 1) земля | 2) капитал | 3) труд | 4) предпринимательство |
|----------|------------|---------|------------------------|

- 5 На графике отражена ситуация на рынке изделий из текстиля (постельного белья, махровых полотенец и др.): линия спроса D переместилась в новое положение D_1 (P — цена товара, Q — объём спроса товара).



Это перемещение может быть связано прежде всего с

- 1) расширением гостиничного бизнеса
 - 2) появлением новых видов искусственных тканей
 - 3) увеличением числа производителей домашнего текстиля
 - 4) ростом налогов с производителей текстильной продукции
- 6 На графике отражена ситуация на рынке ремонтно-строительных услуг: линия предложения S переместилась в новое положение S_1 (P — цена товара, Q — количество товара).



Это перемещение может быть связано прежде всего с

- 1) выдачей льготных кредитов организациям, занимающимся строительством и ремонтом
- 2) увеличением доходов потребителей услуг рынка
- 3) развитием рынка жилищного строительства
- 4) ростом налогов, уплачиваемых ремонтно-строительными организациями

7. Производители женской одежды в ряде стран Азии ориентируются на предписания буддизма. Поэтому модельный ряд существенно отличается от того, что предлагается в магазинах Европы. Какой фактор, влияющий на предложение, проявился в данной ситуации?

- 1) сезонность
- 2) стоимость факторов производства
- 3) религиозные и культурные традиции
- 4) уровень доходов населения

8 Равновесная цена - это:

- а) цена выше той, которая создает избыточный спрос;
- б) цена, при которой нет ни дефицита, ни избытка;
- в) все перечисленное выше справедливо;
- г) цена, установленная правительством.

9 Действие рыночного механизма проявляется в том, что

- 1) рекламируются товары и услуги
- 2) доходы производителей постоянно растут
- 3) государство поддерживает убыточные предприятия
- 4) цены зависят от спроса и предложения

10 Стоимость затрат на производство и сбыт готовой продукции представляет собой

- 1) фактор производства
- 2) издержки фирмы
- 3) внешние эффекты
- 4) банковский кредит

11 Верны ли следующие суждения о конкуренции?

А. Конкуренция товаров из-за рубежа помогает внутренним производителям улучшать качество своей продукции и удерживать издержки на низком уровне.

Б. Широкий ассортимент товаров из-за границы увеличивает свободу выбора потребителей.

- 1) верно только А
- 2) верно только Б
- 3) верны оба суждения
- 4) оба суждения неверны

12 Депозит – это:

- а. выпуск денежной массы;
- б. ссуда в денежной или товарной форме;
- в. вклад в банк.

13 Двумя уровнями банковской системы выступают:

- а. коммерческие банки и кредитные учреждения;
- б. Центральный банк и Сберегательный Банк;
- в. коммерческие банки и заемщики;
- г. Центральный Банк и коммерческие банки.

14 Переменные издержки – это:

- а) издержки, которые не меняются при изменении объемов производства фирмы;
- б) общие издержки, необходимые для производства товаров;
- в) затраты фирмы на производство единицы продукции;
- г) издержки, которые меняются при изменении объемов производства фирмы.

15 Найдите верное суждение. При увеличении производства ...

- а) постоянные затраты на весь объем производства растут;
- б) переменные затраты на весь объем производства снижаются;
- в) переменные затраты на весь объем производства растут;
- г) общие затраты на весь объем производства падают.

16 Ниже приведён перечень терминов. Все они, за исключением двух, относятся к понятию «рыночная экономика».

1) Конкуренция производителей; 2) многообразие форм собственности; 3) централизованное распределение; 4) спрос; 5) предложение; 6) государственное ценообразование.

Найдите два термина, относящиеся к другому понятию, и запишите в таблицу цифры, под которыми они указаны.

Ответ:

--	--

17 Найдите в приведённом ниже списке функции центрального банка и запишите цифры, под которыми они указаны.

- 1) эмиссия денег
- 2) кредитование населения и фирм
- 3) лицензирование коммерческих банков
- 4) увеличение размера налогов
- 5) контроль над объёмом денежной массы
- 6) внесение поправок в Налоговый кодекс

Ответ: _____ .

Часть 2

Выполняется на дополнительном бланке

18. Два банка А и Б предлагают следующие условия по вкладам на $T=2$ года для вклада $P=2000$ руб.:

А: $i=120\%$ годовых простых

Б: $i=20\%$ в месяц сложных. Что выгоднее вкладчику?

19. Имеются следующие данные о рынке товара:

ЕДР	Величина спроса	Величина предложения	Цена	Выручка
-----	40	60	12	?
-----	50	50	10	?
-----	60	40	8	?
-----	70	30	6	?
?	80	20	4	?

- 1) Постройте график предложения
- 2) Найдите равновесный объем (Q_0)
- 3) При $P=8$ на рынке излишки или дефицит? И каков их объем?
- 4) Найдите выручку при каждом уровне цен
- 5) Рассчитайте коэф. Эластичности

20. Определить объем производства, при котором фирма получает максимальную прибыль, если:

Объем произв-ва	Выручка	Пост. затраты	Перем. затраты	Общие затраты	Прибыль (убытки)
0	0	50	0		
1	40	50	30		
2		50	50		
3		50	70		
4		50	90		
5		50	120		
6		50	160		
7		50	230		